

Nachname: _____
Matrikelnummer: _____

Vorname: _____
Sitzplatz: _____

BERGISCHE UNIVERSITÄT WUPPERTAL
Fachbereich Wirtschaftswissenschaft

Klausuraufgaben/Examination booklet

Grundlagen der VWL I
Makroökonomie

Alle Studienrichtungen

Prüfer/Examiner:
Prof. Dr. P.J.J. Welfens

Prüfungstag/Date:
28.09.2020

Erlaubte Hilfsmittel/Permissible resources:
Keine/None

Generell werden nur Antworten gewertet, die in den entsprechenden Antwortbereichen des Gehefts stehen. (Konzeptpapier ist nur zu benutzen wenn die Bereiche zur Beantwortung nicht ausreichen, dies ist deutlich neben der entsprechenden Aufgabe zu vermerken.)

Generally, only answers which are provided in the appropriate space will be graded. (Concept paper should only be used if the space allocated for a particular answer is insufficient, if you use concept paper to continue your answer, this should be indicated clearly beside the relevant question).

Alle Aussagen sind zu begründen und Rechenschritte vollständig und korrekt wiederzugeben. Abweichungen können zu Abzügen bei der Punktzahl führen.

All arguments should be supported and calculation steps provided correctly and completely. Should you deviate from this approach, marks may be deducted.

Sofern nicht anderweitig angegeben, ist davon auszugehen, dass für Aufgabenteile keine Teilpunkte vergeben werden.

Unless otherwise stated, please assume that specific marks will not be awarded for parts of the answers.

Bei Unklarheiten im Verständnis der Aufgaben ist anzugeben unter welchen Annahmen die Aufgaben bearbeitet wurden.

If you do not understand a question, please make clear under what assumptions your answer is made.

Die Klausur gilt als bestanden, wenn die erreichte Punktzahl mindestens 45 Punkte beträgt.

The examination shall be deemed to be passed when students have achieved a minimum of 45 marks.

Die Aufgaben 1-15 sind komplett zu bearbeiten.

Questions 1-15 should be answered in full.

Die letzte Seite des Gehefts kann als Konzeptpapier verwendet werden.

The last page of this booklet can be used as note/concept paper.

Unterschrift/Signature

Die Klausur besteht aus insgesamt 15 (fünfzehn) Seiten.

The examination consists of 15 (fifteen) pages.

Aufgabe 4: (4 Punkte/marks)

In Land I liegt ein **Wirtschaftswachstum von 2%** vor, in Land II liegt dieses bei **1%**.
Angenommen die **Umlaufgeschwindigkeit ist konstant** in beiden Ländern.

Beide Länder planen ihre **Geldmenge um 2% ansteigen** zu lassen. Für welches Land
liegt die höhere Inflationsrate vor?

The **rate of economic growth in Country I is 2%**, the **rate of growth in Country II is 3%**. Assume **constant velocity** in both countries.

Both countries plan on increasing their respective **money supply by 1%**. Which country
should experience higher inflation?

Aufgabe 5: (3 Punkte/marks)

Zeigen Sie graphisch, ein Gleichgewicht auf dem Devisenmarkt €/\$. (Beschriften Sie Ihre
Kurven!)

Please show graphically an equilibrium situation on the foreign exchange market €/\$. (Label
your axes and curves!!)

--

Aufgabe 7: (5 Punkte/marks)

Gegeben sind die IS- und die LM-Kurve wie folgt:

The IS and LM curves are given as follows:

$r(Y) = -4Y + 10$ IS-Kurve/ IS curve

$r(Y) = Y - 5$ LM-Kurve / LM curve

Bestimmen Sie das **binnenwirtschaftliche Gleichgewicht**.


Please determine the **domestic equilibrium**.



Aufgabe 8: (9 Punkte/marks)

a) (3 Punkte) Zeigen Sie graphisch, wie eine **Einkommensteuererhöhung** im Rahmen des **IS-LM-Modells** wirkt. (Beschriften Sie Ihre Kurven.)

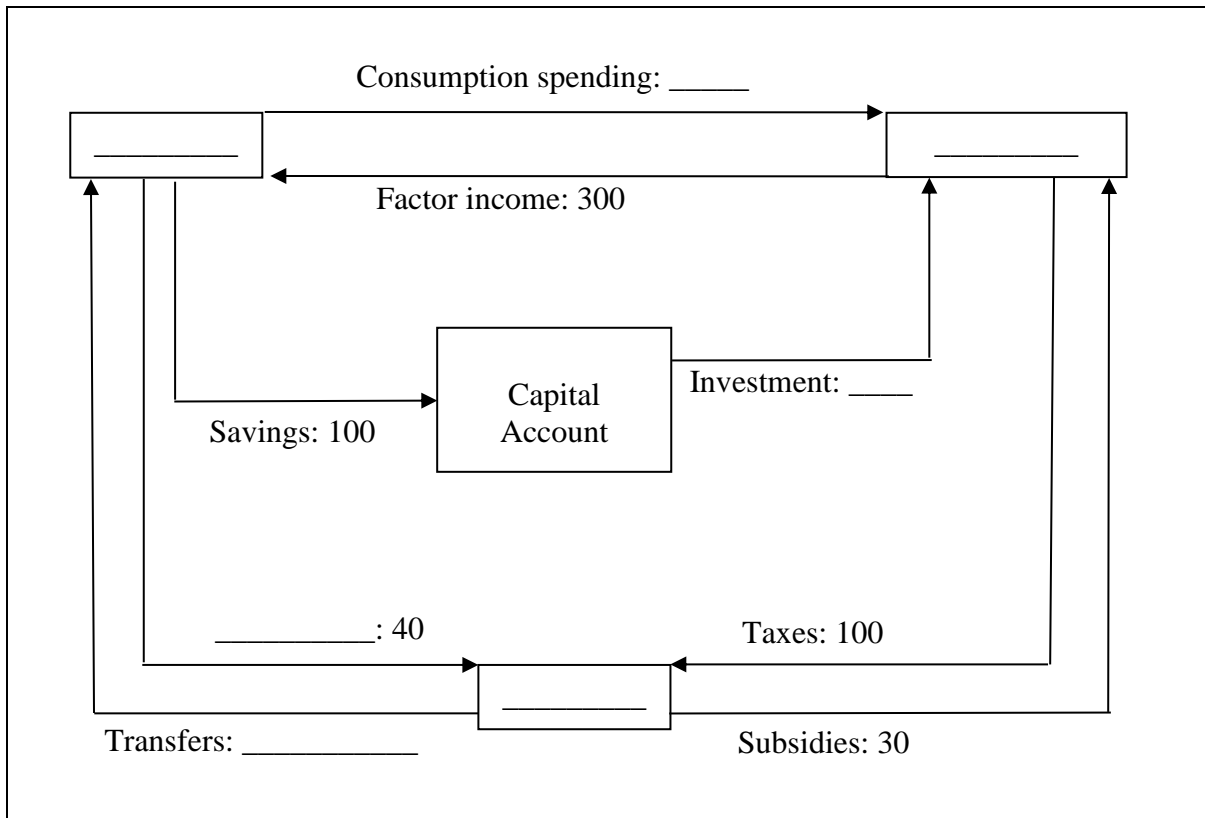
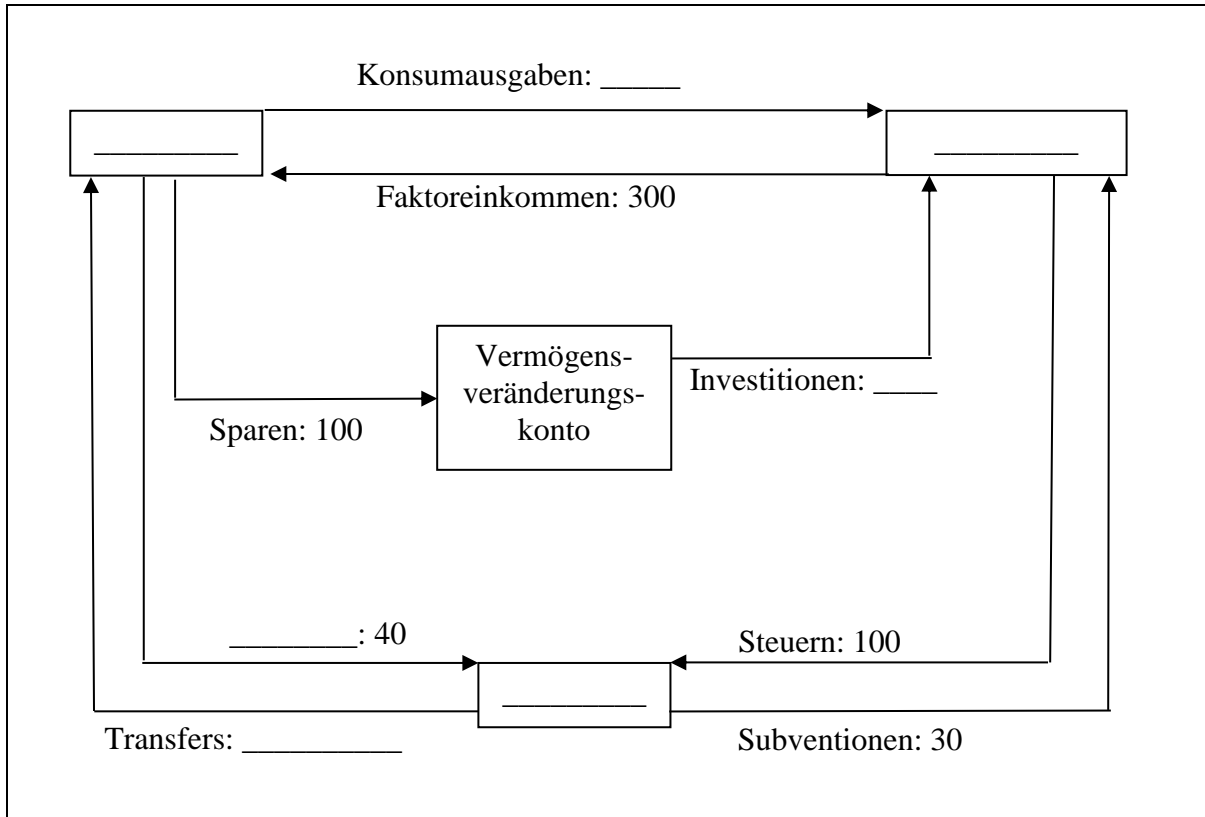
(3 marks) Please show graphically the effect of a **rise in income taxation** within the framework of an **IS-LM model**. (Please label your curves.)



Aufgabe 10: (6 Punkte/marks)

Ergänzen Sie das folgende **Kreislaufmodell**. (Tragen Sie die fehlenden Werte und Bezeichnungen ein.)

Please complete the following **circular flow model**. (Enter the missing values and words.)



- b) (3 Punkte) Nennen Sie drei Einflussfaktoren der Investition.
(3 marks) Please name three factors which influence investment.

Aufgabe 12: (7 Punkte/marks)

- a) (3 Punkte) Zeigen Sie graphisch das Sparparadoxon: Wie wirkt eine Erhöhung der Sparquote s auf das Einkommen Y ? (Bitte beschriften Sie die Achsen und Kurven)
(3 marks) Please show graphically the savings paradox i.e. what happens to income Y when the savings rate s rises. (Please label the axes and curves)



Notizen / Konzeptpapier:
Notes / Concept paper:

A large rectangular box with a thin black border, containing 24 horizontal lines spaced evenly down the page. The lines are intended for writing notes or a concept paper.